

# Веселая математика средняя группа



# Цели:

- Закрепить представление детей об образовании чисел 4 и 5 и навыки счёта в пределах 5.
- Учить согласовывать числительные с существительными, к которым они относятся, запоминать число предметов.
- Упражнять в определении направления расположения предметов (впереди, сзади).




# Маша и Медведь



Сколько зайчиков ? Сколько морковок? Чего больше ? Чего меньше ?  
Какое число больше 4 или 3 ? Какое число меньше 3 или 4 ?






Что изменилось ? Чего стало больше ? Чего стало меньше ? Как  
получилось 4 зайчика ? Как получилось 3 морковки ? Какое число  
больше 4 или 3 ? Какое число меньше 3 или 4 ?














# Что изменилось ?



Что изменилось ? Кого стало больше ? Чего стало меньше ? Как получилось 5 зайчиков ? Как получилось 4 морковки ? Какое число больше 5 или 4 ? Какое число меньше 4 или 5 ?





Что изменилось ? Кого стало больше ? Чего стало меньше ? Как  
получилось поровну?





Сколько зайчиков ? Сколько морковок? Чего больше ? Чего меньше ? Какое число больше 4 или 5 ? Какое число меньше 5 или 4 ?





Сосчитай сколько матрешек?



Сосчитай сколько барабанов?



Сосчитай сколько мячей?



Сосчитай сколько пирамидок?









Кто за кем стоит ? Кто стоит впереди ? Кто стоит сзади?  
Кто третий? Кто стоит между щенком и тигром? Кто стоит  
последний?





**Рассмотри  
картинку.  
Какие  
геометричес  
кие фигуры  
ты видишь?**

Посмотри на картинку. Сколько на картинке кругов, треугольников, квадратов? Сколько геометрических фигур красного, зеленого, желтого цвета? Назови их.






КАКОЙ ПРЕДМЕТ ЛЕЖИТ В КОРОБКЕ, А КАКОЙ ОКОЛО?



ЧТО НАХОДИТСЯ В КОРОБКЕ? ЧТО ПЕРЕД КОРОБКОЙ?  
ЧТО ОКОЛО КОРОБКИ? ЧТО ЗА КОРОБКОЙ?



КТО НАХОДИТСЯ У РЕКИ, А КТО В РЕКЕ? КТО НАХОДИТСЯ НА ЛЕВОМ,  
А КТО НА ПРАВОМ БЕРЕГУ РЕКИ?





КТО НАХОДИТСЯ ПОД ДЕРЕВЬЯМИ, А КТО НА ДЕРЕВЬЯХ?  
КТО ИЗ ЖИВОТНЫХ НАХОДИТСЯ НИЖЕ, А КТО ВЫШЕ?



# Молодцы !!!



Воспитатель Курбанова Л.Р

Интернет источник: <http://vospitatel.com.ua/zaniatia/matematika/v-strane-geometriceskikh-figur.html>